

Brevet de technicien supérieur session 2015 - groupement A

Spécialités :

- Contrôle industriel et régulation automatique
- Informatique et réseaux pour l'industrie et les services techniques
- Systèmes électroniques
- Électrotechnique
- Génie optique
- Techniques physiques pour l'industrie et le laboratoire

Exercice 1

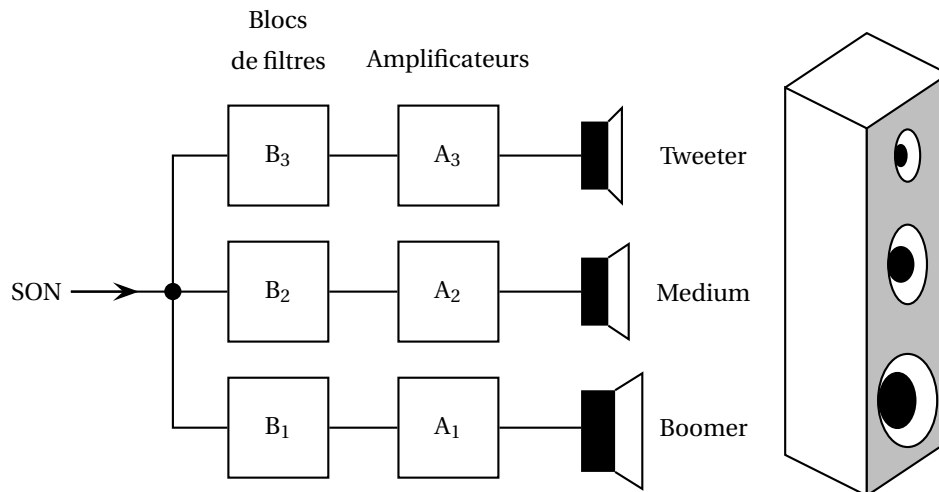
11 points

Une enceinte acoustique transforme une puissance électrique en pression acoustique. Elle comporte plusieurs haut-parleurs pour restituer les plages de fréquences audibles car il n'existe pas de haut-parleur qui puisse restituer la totalité de ces fréquences.

Une enceinte acoustique de qualité comporte 3 haut-parleurs :

- Le tweeter qui reproduit les fréquences hautes (3 à 15 kHz) des sons aigus.
- Le médium qui reproduit les fréquences intermédiaires (300 à 3 000 Hz).
- Le boomer qui reproduit les fréquences basses (30 à 300 Hz) des sons graves.

Chaque haut-parleur est précédé d'un bloc de filtres qui sélectionne les fréquences adaptées et d'un amplificateur.



Dans l'exercice, on étudie un des blocs de filtres utilisés. Il est constitué de deux filtres F₁ et F₂.

Pour le filtre F₁, on note :

- H_1 sa fonction de transfert,
- $G_1(\omega) = 20 \log |H_1(j\omega)|$, où j est le nombre complexe de module 1 et d'argument $\frac{\pi}{2}$, le **gain en décibel** du filtre pour une pulsation ω ($\omega \geq 0$).
- ω_1 la **pulsation de coupure à -3 dB** du filtre c'est-à-dire la pulsation ω_1 pour laquelle le gain en décibel est égal à -3 (on admet qu'il n'y en a qu'une),
- f_1 la fréquence associée à ω_1 On l'appelle **fréquence de coupure du filtre** et $f_1 = \frac{\omega_1}{2\pi}$.

La **bande passante** du filtre F_1 est l'ensemble des fréquences que le filtre laisse passer. On considère que ce sont les fréquences associées à un gain en décibel supérieur ou égal à -3 .

On adopte les notations et le vocabulaire analogues pour le filtre F_2 .

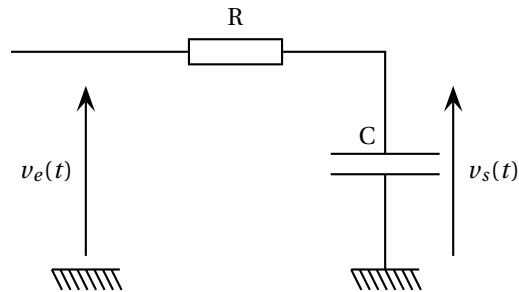
PARTIE A : cas du filtre F_1

On donne dans le **document réponse** la représentation graphique de la fonction G_1 .

1. Déterminer graphiquement une valeur approchée de la pulsation de coupure ω_1 du filtre F_1 .
Laisser apparents les traits de construction.
2. En déduire
 - a. une estimation au hertz près de la fréquence de coupure f_1 du filtre F_1 ,
 - b. une estimation de la bande passante du filtre F_1 .

PARTIE B : cas du filtre F_2

Le filtre F_2 est représenté sur le schéma ci-contre.
Les tensions d'entrée v_e et de sortie v_s sont des fonctions causales vérifiant : $v_e(0) = 0$, $v_s(0) = 0$ et $v_s(t) + RCv_s'(t) = v_e(t)$ (1).
On note V_e et V_s les transformées de Laplace de v_e et v_s .



Différentes formules de transformées de Laplace sont données à la fin de l'énoncé de cet exercice.

1. La fonction de transfert H_2 du filtre F_2 vérifie, pour tout réel p strictement positif :

$$H_2(p) = \frac{V_s(p)}{V_e(p)}.$$

En appliquant la transformation de Laplace aux deux membres de l'égalité (1), démontrer que

$$H_2(p) = \frac{1}{1 + RCp}.$$

2. On souhaite connaître la tension de sortie v_s qui est obtenue lorsque la tension d'entrée v_e est un échelon d'amplitude $5V$, autrement dit lorsque pour tout réel t :

$$v_e(t) = 5\mathcal{U}(t) \text{ avec } \mathcal{U}(t) = \begin{cases} 0 & \text{si } t < 0 \\ 1 & \text{si } t \geq 0 \end{cases}$$

- a. Donner $V_e(p)$ puis calculer $V_s(p)$ en fonction de R , C et p .
- b. Démontrer que : $V_s(p) = \frac{5}{p} - \frac{5}{p + \frac{1}{RC}}$.
- c. En déduire $v_s(t)$ pour tout réel positif ou nul t .
3. On rappelle que pour tout réel positif ω : $G_2(\omega) = 20 \log |H_2(j\omega)|$ et que pour tout réel strictement positif x : $\log(x) = \frac{\ln(x)}{\ln(10)}$.

a. Calculer le module $|H_2(j\omega)|$ du nombre complexe $H_2(j\omega)$.

b. En déduire que : $G_2(\omega) = -\frac{10}{\ln(10)} \times \ln(1 + (RC)^2\omega^2)$.

4. Étude de la fonction G_2

a. Montrer que pour tout réel positif ω : $G_2'(\omega) = \frac{1}{\ln(10)} \times \frac{-20(RC)^2\omega}{1 + (RC)^2\omega^2}$.

b. En déduire les variations de la fonction G_2 sur l'intervalle $[0; +\infty[$.

c. Déterminer $\lim_{\omega \rightarrow +\infty} G_2(\omega)$.

d. Dresser le tableau de variations complet de la fonction G_2 sur l'intervalle $[0; +\infty[$.

5. Détermination de la bande passante du filtre F_2

a. Calculer $G_2\left(\frac{1}{RC}\right)$.

Justifier que la pulsation de coupure à -3 dB du filtre F_2 , notée ω_2 est égale à $\frac{1}{RC}$ avec une bonne approximation.

b. Pour la suite de l'exercice on prend : $R = 160 \times 10^3 \Omega$ et $C = 3,4 \times 10^{-9} F$.

Donner une valeur approchée arrondie à l'unité de la fréquence de coupure f_2 .

c. Quelle est la bande passante du filtre F_2 ? Justifier.

Partie C : bilan

Le bloc de filtres étudié dans l'exercice est constitué des filtres F_1 et F_2 .

La bande passante de ce bloc de filtres est l'ensemble des fréquences que le filtre F_1 et le filtre F_2 laissent tous les deux passer.

1. Quelle est la bande passante du bloc de filtres étudié ?
2. Auquel des trois haut-parleurs de l'enceinte acoustique est associé le bloc de filtres étudié ?

Formules relatives à la transformation de Laplace

Fonction	Transformée de Laplace
$t \mapsto \mathcal{U}(t)$	$p \mapsto \frac{1}{p}$
$t \mapsto t\mathcal{U}(t)$	$p \mapsto \frac{1}{p^2}$
$t \mapsto t^n \mathcal{U}(t)$, avec $n \geq 1$	$p \mapsto \frac{n!}{p^{n+1}}$
$t \mapsto e^{at} \mathcal{U}(t)$	$p \mapsto \frac{1}{p-a}$
Propriétés	
Fonction	Transformée de Laplace
$t \mapsto f(t)\mathcal{U}(t)$	$p \mapsto F(p)$
$t \mapsto f(t-a)\mathcal{U}(t-a)$, avec a constante réelle	$p \mapsto F(p)e^{-ap}$
$t \mapsto f(at)\mathcal{U}(t)$, avec a constante réelle non nulle	$p \mapsto \frac{1}{a} F\left(\frac{p}{a}\right)$
$t \mapsto f(t)e^{-at}\mathcal{U}(t)$, avec a constante réelle	$p \mapsto F(p+a)$
$t \mapsto f'(t)\mathcal{U}(t)$	$p \mapsto pF(p) - f(0^+)$

Exercice 2**9 points**

On considère un signal modélisé par une fonction s , paire et périodique de période $T = 2$, vérifiant :

$$\left(s(t) = 2t \text{ si } 0 \leq t \leq \frac{1}{2} \right) \text{ et } \left(s(t) = 1 \text{ si } \frac{1}{2} < t \leq 1 \right).$$

Partie A : série de Fourier associée à la fonction s

On admet que la fonction s est développable en série de Fourier et que, pour tout réel t :

$$s(t) = a_0 + \sum_{n \geq 1} (a_n \cos(n\omega t) + b_n \sin(n\omega t)), \text{ avec } \omega = \frac{2\pi}{T}.$$

On rappelle que :

$$a_0 = \frac{1}{T} \int_{-\frac{T}{2}}^{\frac{T}{2}} s(t) dt \text{ et que, pour tout entier non nul } n, a_n = \frac{2}{T} \int_{-\frac{T}{2}}^{\frac{T}{2}} s(t) \cos(n\omega t) dt \text{ et } b_n = \frac{2}{T} \int_{-\frac{T}{2}}^{\frac{T}{2}} s(t) \sin(n\omega t) dt$$

1. Compléter, sur la figure du **document réponse 2**, la représentation graphique de la fonction s sur l'intervalle $[-4 ; 4]$.
2. Établir que : $a_0 = \frac{3}{4}$.
3. Préciser la valeur de b_n pour tout entier naturel n non nul. Justifier.
4. On veut calculer a_n .

À l'aide d'un logiciel de calcul formel, on a obtenu certains résultats (voir copie d'écran donnée dans le **document réponse 2**).

$$\text{Démontrer alors que pour tout entier non nul } n : a_n = \frac{4 \left(\cos\left(\frac{n\pi}{2}\right) - 1 \right)}{n^2 \pi^2}.$$

5. Recopier et compléter le tableau ci-dessous. On y portera les valeurs approchées à 10^{-3} près de a_n pour n compris entre 1 et 7.

n	1	2	3	4	5	6	7
a_n	-0,405						

Partie B : puissance du signal

1. La fonction s étant paire, la puissance du signal sur une période T est donnée par :

$$P = \frac{2}{T} \int_0^{\frac{T}{2}} (s(t))^2 dt.$$

$$\text{Montrer que } P = \frac{2}{3}.$$

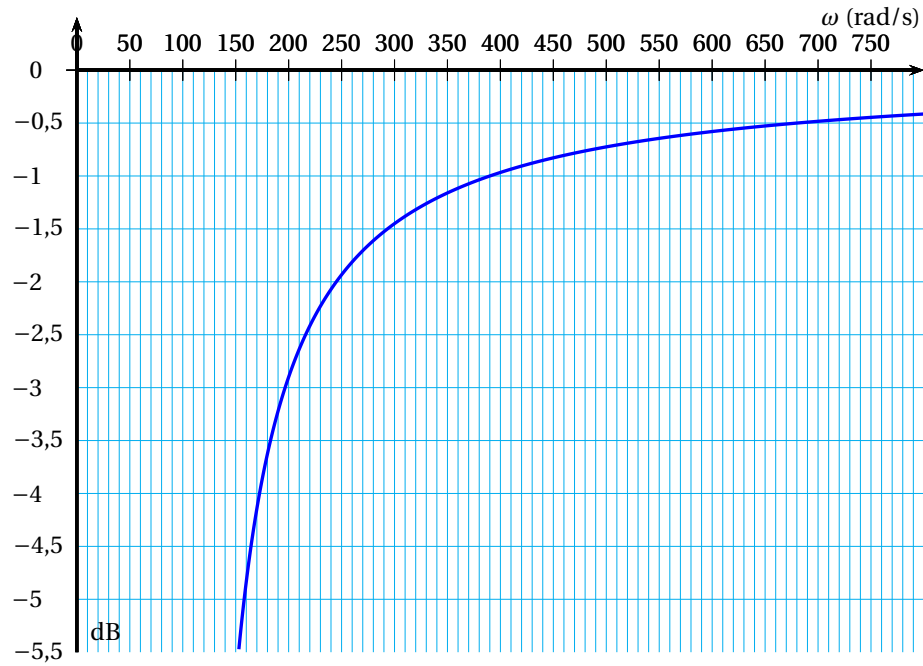
2. On rappelle la formule de Parseval : $P = a_0^2 + \frac{1}{2} \sum_{n \geq 1} (a_n^2 + b_n^2)$.

On considère l'algorithme :

Variables	n entier naturel S nombre réel a nombre réel
Traitement	n prend la valeur 0 S prend la valeur $\left(\frac{3}{4}\right)^2$ Tant que $S < \frac{99,9}{100} \times \frac{2}{3}$ faire n prend la valeur $n + 1$ a prend la valeur $\frac{4 \left(\cos\left(\frac{n\pi}{2}\right) - 1\right)}{n^2 \pi^2}$ S prend la valeur $S + \frac{a^2}{2}$ Fin tant que
Sortie	Afficher n

- a. Quelle valeur de n affiche l'algorithme ? Justifier.
- b. Que représente cette valeur pour le signal étudié ?

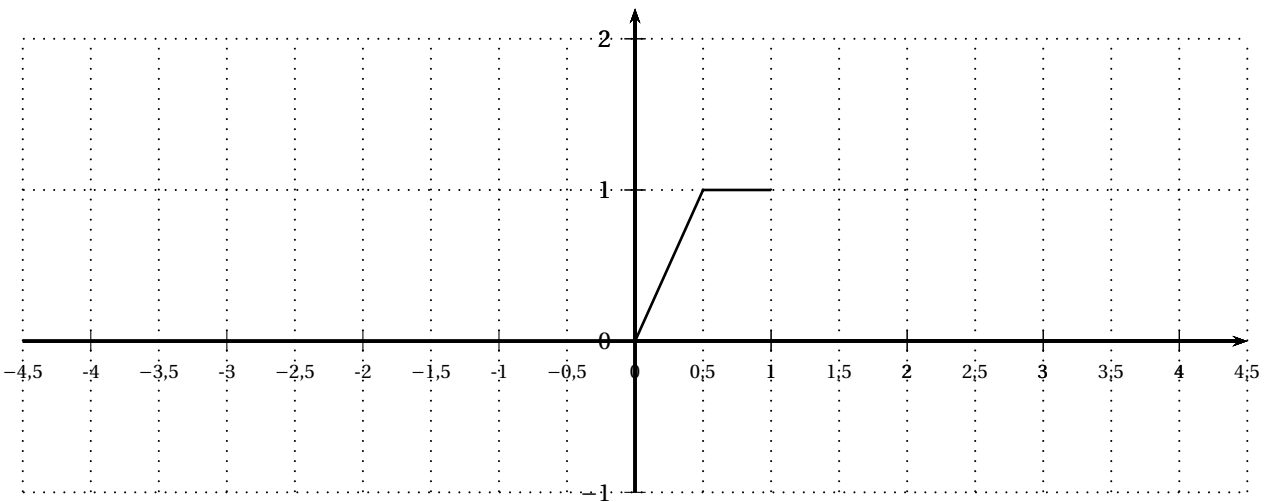
DOCUMENT RÉPONSE 1 À RENDRE AVEC LA COPIE

EXERCICE 1. Partie A : représentation graphique de la fonction G_1 .

DOCUMENT RÉPONSE 2 À RENDRE AVEC LA COPIE

EXERCICE 2

Partie A question 1.



Partie A question 4. : copie d'écran de logiciel de calcul formel

Calcul formel	
1	$\text{intégrale}[\cos(n * \pi * t), t, 0, 1/2]$ $\rightarrow \frac{\sin\left(n\frac{\pi}{2}\right)}{n\pi}$
2	$\text{intégrale}[\cos(n * \pi * t), t, 1/2, 1]$ $\rightarrow \frac{\sin(n\pi) - \sin\left(n\frac{\pi}{2}\right)}{n\pi}$
3	$\text{intégrale}[t * \cos(n * \pi * t), t, 0, 1/2]$ $\rightarrow \frac{n\pi \sin\left(n\frac{\pi}{2}\right) + 2 \cos\left(n\frac{\pi}{2}\right) - 2}{2n^2\pi^2}$
4	$\text{intégrale}[t * \cos(n * \pi * t), t, 1/2, 1]$ $\rightarrow \frac{2n\pi \sin(n\pi) - n\pi \sin\left(n\frac{\pi}{2}\right) + 2 \cos(n\pi) - 2 \cos\left(n\frac{\pi}{2}\right)}{2n^2\pi^2}$