

❧ **Corrigé du brevet Métropole–La Réunion** ❧
Antilles-Guyane septembre 2011

Durée : 2 heures

Toutes les réponses doivent être justifiées, sauf si une indication contraire est donnée

Activités numériques

12 points

Exercice 1 :

1. Quatre adultes et de dix enfants paieront deux fois plus que deux adultes et cinq enfants soit $2 \times 31,50 = 63 \text{ €}$.
2. Deux adultes payent comme quatre enfants, donc deux adultes et cinq enfants autant que neuf enfants ($4 + 5$), soit en nommant e le tarif enfant :
 $9e = 31,5$ soit $9e = 9 \times 3,5$, d'où $e = 3,5$.
Le tarif enfant est $3,50 \text{ €}$, le tarif adulte 7 € .

Exercice 2

1. $2 + 6$ (de deux façons), $3 + 5$ (de deux façons), $4 + 4$.
2. Fréquence du 6 : $\frac{677}{5000} = \frac{1354}{10000} = 0,1357$.
3. a. Voir à la fin.
b. Lancer des deux dés classiques : il y a six faces différentes, donc avec deux dés 6×6 tirages différents. Un seul tirage (1 et 1) permet d'obtenir une somme égale à 2. La probabilité est donc égale à $\frac{1}{36} \approx 0,0278$.
Avec les dés d'Aline la fréquence est égale à
 $\frac{122}{5000} = \frac{244}{10000} = 0,0244 < 0,0278$.
La probabilité est la plus grande avec les deux dés classiques.

Exercice 3

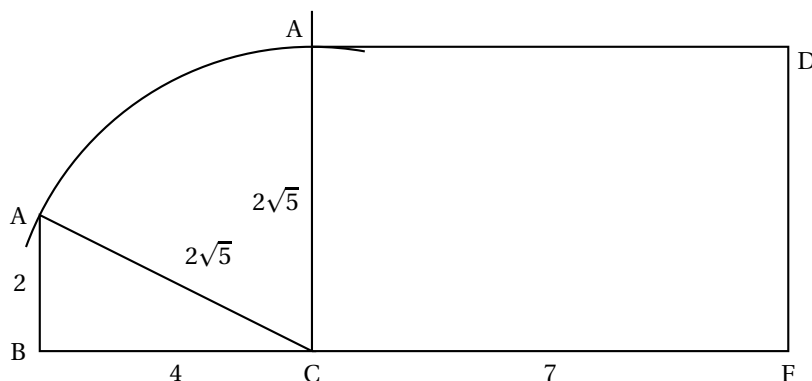
1. Soit x la longueur du rectangle ; il faut que :
 $4(1 + \sqrt{3}) = 2(1 + x)$ ou $2(1 + \sqrt{3}) = 1 + x$ soit $x = 1 + 2\sqrt{3}$.
2. Ici il faut que :
 $(1 + \sqrt{3})^2 = 1 \times x$ ou $x = (1 + \sqrt{3})^2 = 1 + 3 + 2\sqrt{3} = 4 + 2\sqrt{3}$.

Activités géométriques

12 points

Exercice 1 :

1.



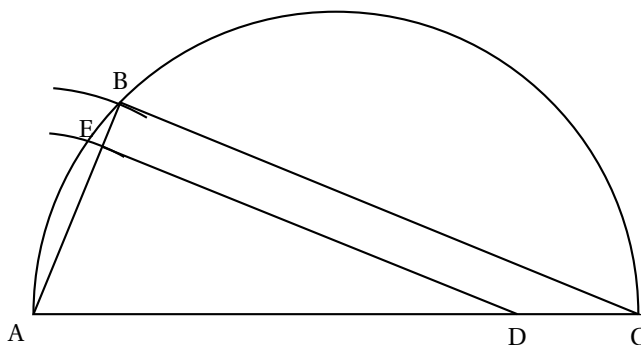
$$2. \text{ On a } V = \frac{A(ACD) \times CD}{3} = \frac{\frac{2 \times 4}{2} \times 7}{3} = \frac{28}{3} \text{ cm}^3.$$

Exercice 2

1. Le triangle ABC est inscrit dans un cercle dont aucun des côtés n'est un diamètre : il n'est pas rectangle.
2. $4,25^2 = 18,0625$ et $3,75^2 + 2^2 = 1 + 4 = 5$, $14,0625 + 2 = 16,0625$. La réciproque du théorème de Pythagore n'est pas vérifiée. Le triangle n'est pas rectangle. On a $DA = DB = DC$, donc A, B et C sont sur le cercle de centre D de rayon DA. Comme A, B et D sont alignés, [AB] est un diamètre et le triangle ACB est rectangle en C.
3. On a $\widehat{ACB} = 180 - (49 + 36) = 95$. Le triangle ABC n'a aucun angle droit ; il n'est pas rectangle.

Exercice 3

1.



$$2. \text{ On a } \cos \widehat{BAC} = \frac{AB}{AC} = \frac{3}{8} = 0,375.$$

La calculatrice donne $\widehat{BAC} \approx 67,975$ soit 68° au degré près.

$$3. \text{ On a } \frac{AE}{AB} = \frac{2,4}{3} = 0,8;$$

$$\frac{AD}{AC} = \frac{6,4}{8} = 0,8.$$

On a donc $\frac{AE}{AB} = \frac{AD}{AC}$, donc d'après la réciproque de la propriété de Thalès les droites (DE) et (BC) sont parallèles.

Comme (BC) est perpendiculaire à (AB), (BC) est aussi perpendiculaire à (DE).
Le triangle ADE est rectangle en E.

Problème

12 points

1^{re} partie

1. Oui car $135 > 2 \times 60$.
2. La différence est égale à $208 - 135 = 73$ m.
3. 30 min.
4. La roue peut recevoir : $32 \times 25 = 800$ visiteurs.

2^e partie - Le tour de roue d'une cabine du « London Eye »

1. Elle sera au sol à 14 h 40 plus 30 min soit à 15 h 10 min.
2.
 - a. Pour $x = 5$ min on lit une hauteur approximative de 35 m.
 - b. Pour $x = 10$ min on lit une hauteur approximative de 102,5 m.
 - c. Sur l'intervalle $[0 ; 15]$ la représentation graphique n'est pas un segment : la fonction n'est pas une fonction linéaire et la hauteur n'est pas proportionnelle au temps.
 - d. La cabine dépasse les 100 m un peu avant la 10^e minute et repasse sous les 100 m un peu après la 20^e minute.
3. Le périmètre d'un cercle de 134 m de diamètre est $134\pi \approx 420,97$ soit 421 m au mètre près.
4. La roue parcourt donc à peu près 421 m en 30 min, donc environ 842 m en une heure, soit 0,842 km/h. Cette vitesse est effectivement inférieure à 1 km/h.

3^e partie - Calcul de la hauteur de la cabine par rapport au sol

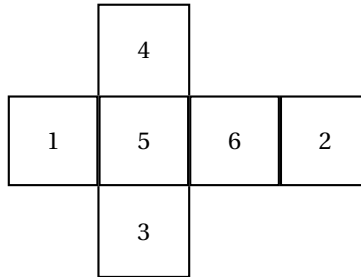
1. Un tour correspond à un angle au centre de 360° pour une durée de 30 min, soit 12° par minute ;
 - pour 5 min l'angle est de $5 \times 12 = 60^\circ$;
 - pour 15 min l'angle est de $15 \times 12 = 180^\circ$;
 - pour 30 min l'angle est de $30 \times 12 = 360^\circ$.
2.
 - a. On a vu que l'angle est égal à 60° .
 - b. Le triangle COD est isocèle puisque $OC = OD$ et comme l'angle au sommet mesure 60° , les deux autres ont aussi pour mesure 60° ; COD est donc un triangle équilatéral.
 - c. On a vu que $5 \times 12 = 60^\circ$.

À rendre avec la copie

Activités numériques

Exercice 2 3. a.

Dé classique



Problème Aucune justification n'est attendue

